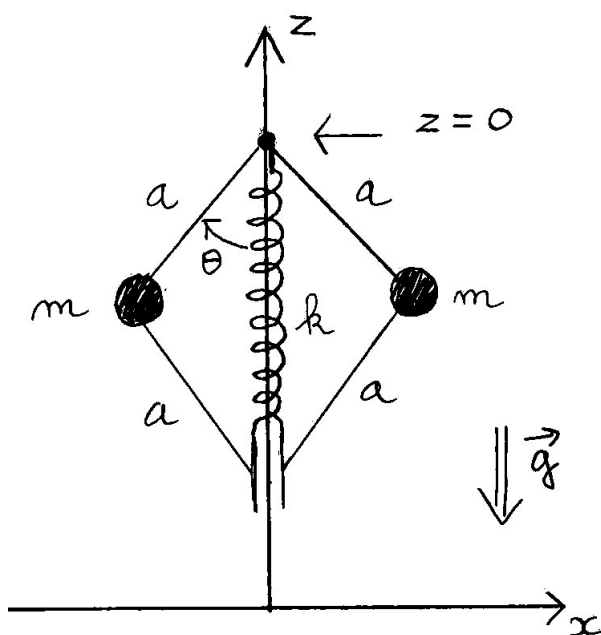


Durée 3h00. Documents interdits. Calculatrice autorisée. 1 feuille manuscrite autorisée. Le barème est indiqué entre parenthèses. L'examen est noté sur 20. Le signe (★) signifie que le problème peut être traité à cet endroit sans avoir nécessairement résolu les questions qui précèdent.

1 (8) Oscillations d'un système mécanique

On considère le système mécanique représenté sur la figure. Le ressort de raideur k a une longueur nulle au repos. Le point $z = 0$ est fixe, l'autre extrémité du ressort est libre de coulisser sur la tige verticale. Il y a deux masses ponctuelles m aux extrémités de tiges rigides de longueur a , le reste du système est de masse négligeable. Il y a un champ de pesanteur \vec{g} . Le système évolue dans le plan (x, z) . Sa configuration est caractérisée par l'angle θ .



1. (2) Ecrire le Lagrangien $L(\theta, \dot{\theta})$ puis le Hamiltonien $H(\theta, p_\theta)$ du système.
2. (3) Trouver la (les) position(s) d'équilibre θ_0 du système. Discuter selon les valeurs de k . Tracer l'allure de l'énergie potentielle totale $U(\theta)$.
3. (3) Pour les différentes positions d'équilibre trouvées, déterminer la fréquence ω_0 des oscillations autour de cette position (ou le facteur d'instabilité λ_0). Discuter les limites $k \rightarrow 0$ et $k \rightarrow \infty$.

2 (17) Précession des équinoxes

La terre tourne sur elle-même en 1 jour, et tourne autour du Soleil en 1 an dans le **plan de l'écliptique**. Son **axe de rotation** Sud-Nord est incliné de $\varepsilon = 23^{\circ}26'$ par rapport à l'axe z qui est orthogonal au plan de l'écliptique. Cet angle est responsable du phénomène des saisons. Voir figures 1 et 2. Dans ce problème O est le centre de la Terre. (x, y, z) sont des axes fixes par rapport aux étoiles. (O, X, Y, Z) est un repère fixe par rapport à la Terre où l'axe Z est l'axe de rotation Sud-Nord et (O, X, Y) est le plan de l'équateur. S désigne le Soleil, L est la lune et T est la Terre.

L'axe de rotation Z Sud-Nord n'est pas fixe et bouge lentement par rapport aux étoiles. L'axe Z est repéré dans le repère $(0, x, y, z)$ par ses coordonnées sphériques (ε, ψ) . Voir figure 2. L'angle $\varepsilon(t)$ oscille avec une période de 18.6 ans appelée **nutatation** et l'angle $\psi(t)$ tourne avec une période de 25785 ans appelée **précession des équinoxes**. Dans ce problème on montre que ces 2 mouvements de l'axe sont dus aux forces gravitationnelles exercées par le Soleil et la Lune sur la Terre, considérée comme un objet de forme **non sphérique** de révolution (en effet la Terre est très légèrement aplatie aux poles, c'est donc un phénomène qui se produit sur une échelle de temps très longue).

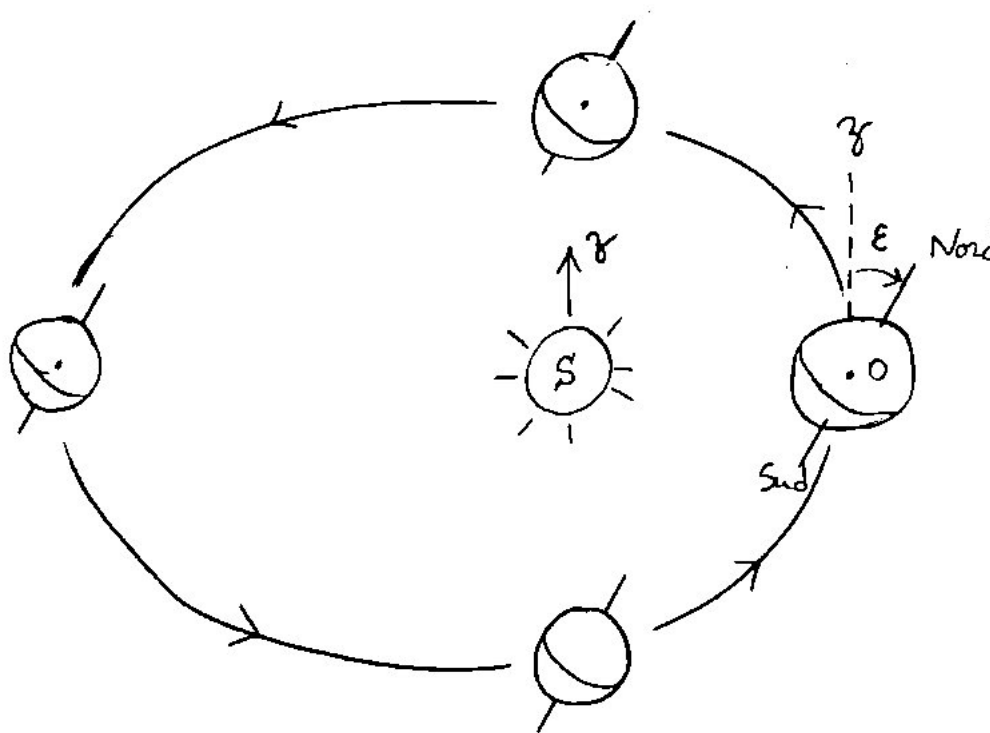
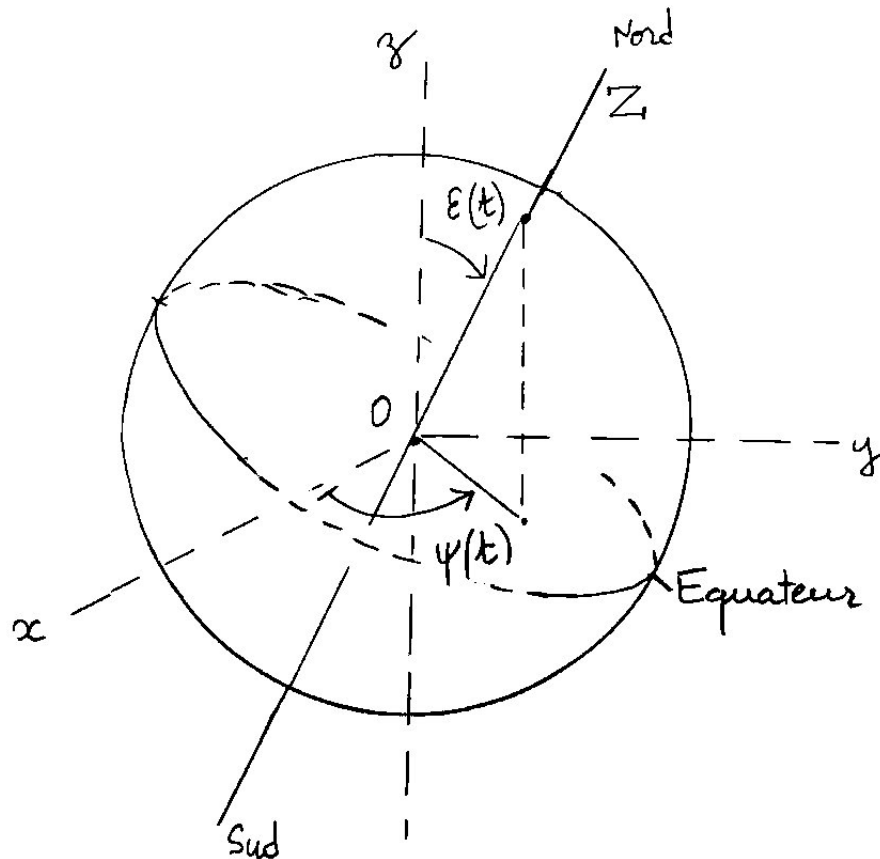


FIGURE 1 – Orbite Terrestre.

Données : $\mathcal{G} = 6,673 \cdot 10^{-11} \text{ Jm/kg}^2$. $M_S = 1,989 \cdot 10^{30} \text{ kg}$. $M_L = 7,35 \cdot 10^{22} \text{ kg}$. $M_T = 5,974 \cdot 10^{24} \text{ kg}$. $R_T = 6367 \text{ km}$. $R = |SO| = 1,496 \cdot 10^8 \text{ km}$. $R_L = |LO| = 3,844 \cdot 10^5 \text{ km}$.

FIGURE 2 – La Terre



1. **(2)** Reproduire la figure 1 et placer les 4 saisons pour l'hémisphère nord : solstice d'hiver et d'été, équinoxes de printemps et d'automne.
2. **(*) (1)** On considère un petit élément de volume $d^3\vec{x}$ en un point M quelconque dans la Terre. La Terre est supposée homogène de masse volumique μ . On note r la distance $r = |\vec{SM}|$. Donner l'expression de l'énergie potentielle gravitationnelle dU exercée par le Soleil sur cet élément de volume.
3. **(*) (3)** On note $R = |\vec{SO}|$. Montrer que

$$\frac{1}{r} = \frac{1}{R} \left(1 - \frac{\vec{u} \cdot \vec{x}}{R} + \frac{3}{2} \frac{(\vec{u} \cdot \vec{x})^2}{R^2} - \frac{\vec{x}^2}{2R^2} + o\left(\frac{1}{R^2}\right) \right)$$

où $\vec{u} = \frac{\vec{SO}}{|\vec{SO}|}$ est un vecteur unitaire et $\vec{x} = \vec{OM}$. Aide : $(1 + \alpha)^{-1/2} = 1 - \frac{1}{2}\alpha + \frac{3}{8}\alpha^2 + o(\alpha^2)$.

4. **(*) (3)** Les moments d'inertie de la Terre sont définis par $I_X = \int_{Terre} X^2 \mu d^3\vec{x} = I_Y = \int_{Terre} Y^2 \mu d^3\vec{x}$, $I_Z = \int_{Terre} Z^2 \mu d^3\vec{x}$. On note ϕ l'angle entre \vec{u} et l'axe polaire Z .

Montrer que l'énergie potentielle de la Terre $U = \int_{Terre} dU$ est donnée par (Aide : choisir l'axe X tel que \vec{u}, Z, X soient coplanaires) :

$$U = -\frac{\mathcal{G}M_S}{R} \left(M_T + \frac{1}{2R^2} (I_X - I_Z) (1 - 3 \cos^2 \phi) \right)$$

Faire une remarque sur ce que deviendrait ce résultat si la Terre était sphérique ?

5. (★) (2) D'après la théorie de la moyenne, sur une durée très longue par rapport à l'année, la Terre subit une énergie potentielle effective $\langle U \rangle$ qui est U moyennée sur un an. Montrer que

$$\langle U \rangle = -\frac{\mathcal{G}M_S}{R} \left(M_T + \frac{1}{2R^2} (I_X - I_Z) \left(1 - \frac{3}{2} \sin^2 \varepsilon \right) \right)$$

6. (★) (1) D'après les données du problème, le vecteur rotation instantané de la Terre est $\vec{\omega} = \Omega \vec{u}_Z + \dot{\psi} \vec{u}_W + \dot{\varepsilon} \vec{u}_Y$ où $\Omega = 2\pi/(1\text{jour})$ est la fréquence de rotation de la Terre, \vec{u}_Z est le vecteur unitaire sur l'axe Z , $\dot{\psi} = \frac{d\psi}{dt}$, etc. $\vec{u}_W = \cos(-\varepsilon) \vec{u}_Z + \sin(-\varepsilon) \vec{u}_X$. Ecrire $\vec{\omega}$ sous la forme $\vec{\omega} = \omega_X \vec{u}_X + \omega_Y \vec{u}_Y + \omega_Z \vec{u}_Z$ en précisant les composantes $\omega_X, \omega_Y, \omega_Z$.

7. (2) L'énergie cinétique de rotation de la Terre sur elle-même est

$$E_c = \frac{1}{2} (I_1 \omega_X^2 + I_2 \omega_Y^2 + I_3 \omega_Z^2)$$

avec $I_1 = I_Y + I_Z$, $I_2 = I_X + I_Z$, $I_3 = I_X + I_Y$. Le Lagrangien est $\mathcal{L} = E_c - \langle U \rangle$. A partir de l'équation de mouvement de Euler-Lagrange $\frac{d}{dt} \left(\frac{\partial \mathcal{L}}{\partial \dot{\varepsilon}} \right) = \frac{\partial \mathcal{L}}{\partial \varepsilon}$ pour la variable $\varepsilon(t)$, exprimer $\ddot{\varepsilon}$ en fonction de $I_X, I_Z, \varepsilon, \Omega, \dot{\psi}, \mathcal{G}, M_S, R$.

8. (1) Pour simplifier, on suppose que ε est constant (pas de nutation) et on néglige $\dot{\psi}$ devant Ω . Déduire que la fréquence de la précession est donnée par

$$\dot{\psi} = -\frac{3 \mathcal{G}M_S \cos \varepsilon}{4 R^3 \Omega} \left(\frac{I_X - I_Z}{I_X} \right) \quad (1)$$

9. (★) (2) La lune L de masse M_L , située à une distance $R_L = |LO|$ de la Terre, tourne aussi dans le plan de l'écliptique (en première approximation) et exerce donc un effet similaire sur la Terre qui s'ajoute à celui du Soleil. Si R_e, R_p désignent respectivement les rayons de la Terre à l'équateur et au pôle, on admettra que $\left(\frac{I_X - I_Z}{I_X} \right) = \frac{2(R_e - R_p)}{R_T}$ (c'est un calcul qui considère la Terre comme un ellipsoïde). Déduire de ce qui précède la différence de rayons $\Delta R = R_e - R_p$ responsable du phénomène de précession des équinoxes. Application numérique : donner les contributions relatives du Soleil et de la Lune sur le phénomène de précession des équinoxes. Calculer ΔR et comparer à la valeur mesurée par satellite : $\Delta R = 21,4\text{km}$.